

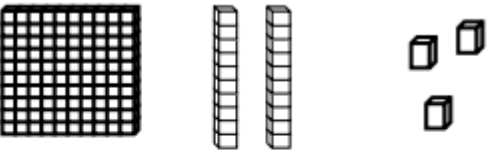
# Maths CE1 - Période 3

*As-tu compris les nombres plus grands que 100 ?*

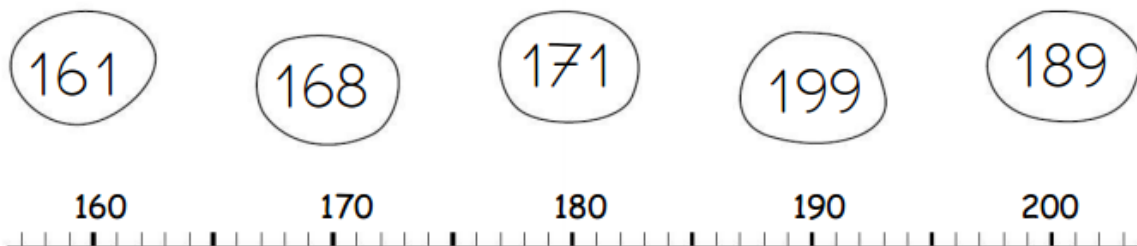
**Relie les nombres identiques.**

125	cent - quatre - vingt - cinq
124	cent - vingt - cinq
185	cent - quatre
104	cent - cinquante - cinq
155	cent - vingt - quatre
105	cent - cinq
150	cent - cinquante

**Dessine :**

<u>123</u> 	<u>354</u>
<u>405</u>	<u>260</u>

**Relie les nombres à leur place sur la ligne graduée.**



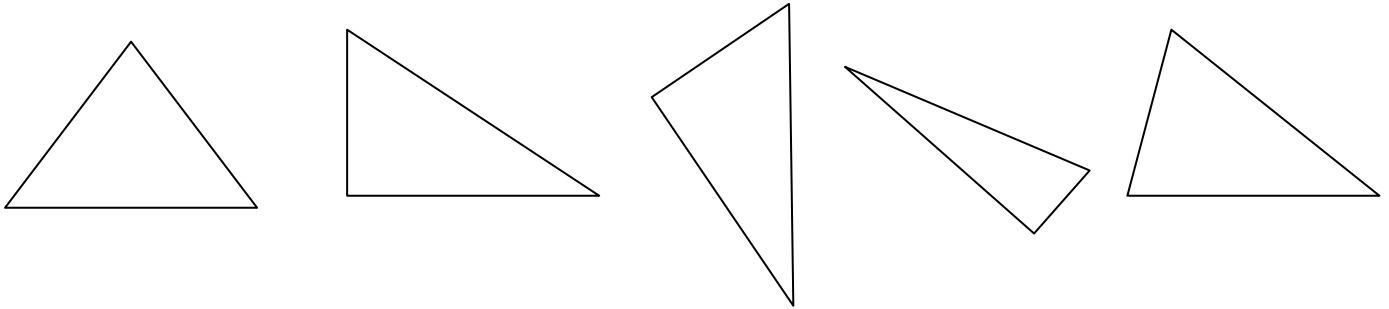
**Colorie en bleu les unités, en rouge les dizaines et en vert les centaines**

192	198	9	19	119	89
79	86	67	199	167	99

*As-tu compris les triangles rectangles ?*

---

**Repère les angles droits puis entoure les triangles rectangles.**



**Trace un triangle rectangle**



*As-tu compris double et moitié ?*

---

**Complète**

Le double de 5 est \_\_\_\_ .

Le double de 7 est \_\_\_\_ .

Le double de 10 est \_\_\_\_ .

Le double de 6 est \_\_\_\_ .

Le double de 4 est \_\_\_\_ .

La moitié de 8 est \_\_\_\_ .

La moitié de 10 est \_\_\_\_ .

La moitié de 6 est \_\_\_\_ .

La moitié de 14 est \_\_\_\_ .


La moitié de 12 est \_\_\_\_ .

*As-tu compris les additions à 3 chiffres ?*


---

**Pose et calcule.**

$267 + 146 =$



$328 + 96 =$



$402 + 165 + 218 =$

