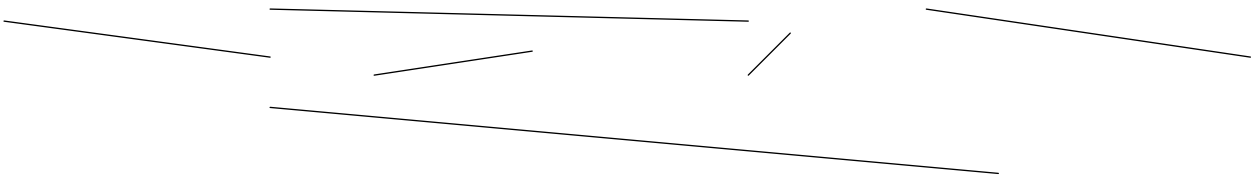



Ai-je compris la comparaison de longueur ?

Utilise une bande de papier pour ranger ces lignes de la plus courte à la plus longue.


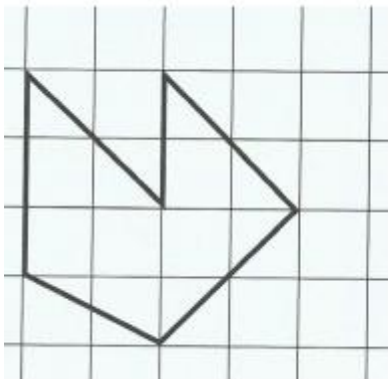


Trace en bleu une ligne plus longue que le segment noir et en rouge une ligne plus courte que le segment noir.



Ai-je compris la reproduction sur quadrillage?

Reproduis cette figure



Ai-je compris les nombres de 0 à 999 ?

Lis les nombres suivants 560 779 189 986 392 501 263

Écris les nombres en chiffres.

sept-cent-trente

deux-cent-quatre-vingts

cinq-cent-deux

trois-cent-soixante-dix-sept

six-cent-soixante-trois

cent-quatre-vingt-dix-huit

Ai-je compris le vocabulaire de géométrie

Trace un segment [AB] de 6 cm. Marque le milieu M de ce segment.

Trace deux points que tu nommeras E et F. Trace une droite qui passe par ces 2 points.

Ai-je compris le rangement de nombres ?

Range les nombres dans l'ordre croissant : 560 779 989 986 392 501 763

.....

Range les nombres dans l'ordre décroissant : 330 742 921 332 392 724 912

.....

Ai-je compris la comparaison des nombres ?

Compare les nombres avec les signes < ou >.

98 780 568 134 789 792 902 720 560.....559

105 20 300 299 231 332 99 999 100.....110

97 907 314..... 134 689 690 300 600 480.....479

Ai-je compris l'encadrement des nombres ?

Encadre les nombres à la dizaine

.....< 78 <..... < 123 <..... < 345 <..... < 612 <..... < 777 <.....

Encadre les nombres à la centaine

.....< 478 <..... < 123 <..... < 345 <..... < 612 <..... < 777 <.....

Ai-je compris la monnaie (1) ?







Quelle somme d'argent possède Tim ? Et Maïa ?



Que dois-tu utiliser pour payer exactement le prix du livre ?



Ai-je compris rendre la monnaie ?

L'objet coute :		Lucas donne :	La marchande lui rend :
	Armoire : 198 €	
	Rose : 3 € 40 c.	
	Pyjama : 24 € 90 c.	

Ai-je compris les angles droits ?

Dans chaque figure, indique s'il y a un angle droit. Marque bien tous les angles droits !

